

# 第三单元素质测评试卷

(总分:100分 时间:60分钟)

题号	一	二	三	四	五	六	七	八	九	附加题	总分
得分											

## 一、我会填。(15分)

1. 与99相邻的两个数是( 98 )和( 100 )。
2. 47的个位上是( 7 ),十位上是( 4 )。
3. 10个一是( 十 ),10个十是( 一百 )。
4. 9个十和3个一组成的数是( 93 )。
5. 84是由( 8 )个十和( 4 )个一组成的。
6. 49前面的数是( 48 ),后面的数是( 50 )。
7. 77后面连续的三个数是( 78 ),( 79 ),( 80 )。
8. 比20小,且个位和十位上的数相同的两位数是( 11 )。

## 二、我是小法官,对错我来判。(6分)

1. 89后面的数是90,表示9个一。 ( × )
2. 个位上的8和十位上的8意义相同,都表示8个十。 ( × )
3. 76与82之间有5个数。 ( √ )
4. 位数相同的两个数,最高位上的数大的那个数较大。 ( √ )
5. 一个两位数,十位上的数是1,个位上的数是5,这个两位数是15。 ( √ )
6. 用3和7两个数组成的最小两位数是73。 ( × )

## 三、对号入座。(将正确答案的序号填在括号里)(12分)

1. 46和52之间有( A )个数。  
A. 5                      B. 6                      C. 7

2. 比 76 少 1 的数是( **A** )。  
A. 75                      B. 77                      C. 70
3. 一个数从右边数起,第三位是( **C** )。  
A. 个位                      B. 十位                      C. 百位
4. 最小的三位数比最小的两位数大( **C** )。  
A. 10                      B. 89                      C. 90
5. 下面各数中,比 100 少得多的数是( **A** )。  
A. 10                      B. 80                      C. 90
6. 在 60 和 70 之间,个位和十位上的数字相同的数是( **C** )。  
A. 55                      B. 77                      C. 66

#### 四、按要求完成下列各题。(12 分)

1. 我来写数。

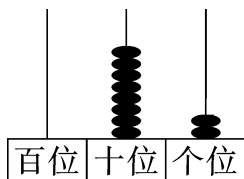
四十四( <b>44</b> )	八十七( <b>87</b> )	五十六( <b>56</b> )
九十( <b>90</b> )	七十三( <b>73</b> )	九十九( <b>99</b> )

2. 我来读数。

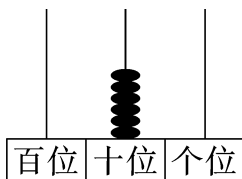
42( <b>四十二</b> )	85( <b>八十五</b> )	78( <b>七十八</b> )
66( <b>六十六</b> )	100( <b>一百</b> )	34( <b>三十四</b> )

#### 五、 按要求做一做。(18 分)

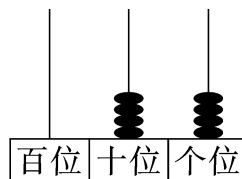
1. 看图写数。(6 分)



( **82** )

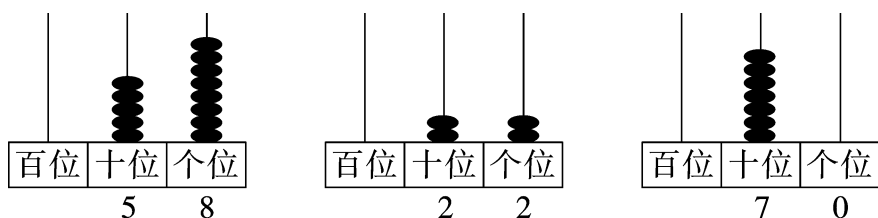


( **60** )

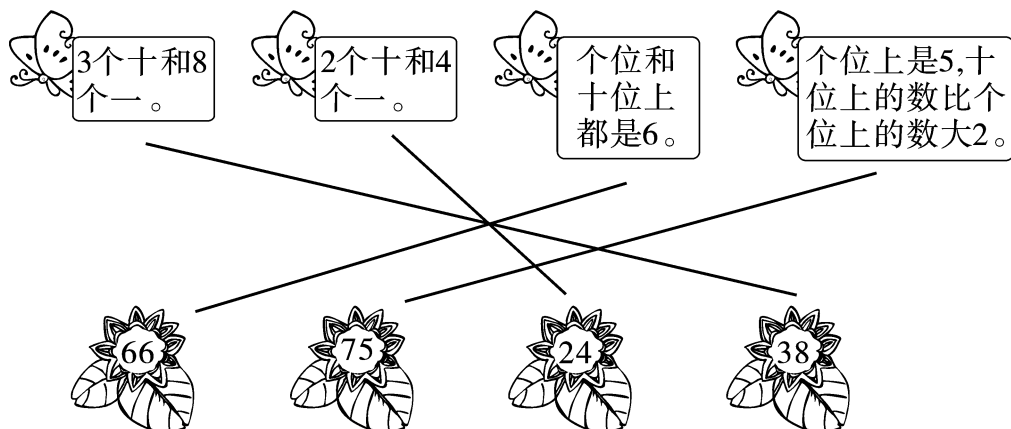


( **44** )

2. 在计数器上画一画。(12 分)



六、蝴蝶应该落在哪朵花上？(连一连)(4 分)



七、计算我最棒。(8 分)

$$18-8=10$$

$$40+9=49$$

$$37-30=7$$

$$96-6=90$$

$$80+7=87$$

$$30+5=35$$

$$92-2=90$$

$$50+8=58$$

八、比大小。(10 分)

1. 在  $\bigcirc$  里填上“>”“<”或“=”。(4 分)

$$28 < 82$$

$$72 < 78$$

$$62 > 53$$

$$88 > 85$$

$$27 = 27$$

$$81 < 99$$

$$55 = 55$$

$$100 > 99$$

2. 把下列各式按得数从小到大的顺序排一排。(6 分)

$$9+40$$

$$25-5$$

$$47-7$$



$$30+6$$

$$84-4$$

$$30+8$$

$$( 25-5 ) < ( 30+6 ) < ( 30+8 ) < ( 47-7 ) < ( 9+40 ) < ( 84-4 )$$

## 九、生活中的数学。(15 分)

1.  鱼缸里的金鱼条数比20多得多,比90少一些。 

鱼缸里可能有多少条金鱼?(在合适的答案下面画“△”)(3 分)

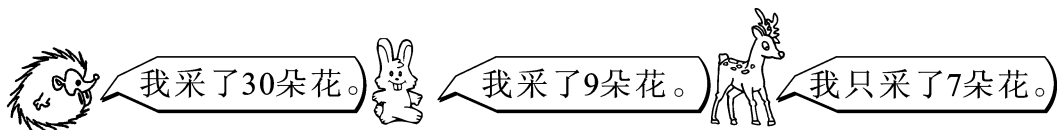
43 条	85 条	95 条	39 条
	△		





2. 一年级有 46 名同学,在操场上做游戏的有 40 名,没有在操场上做游戏的有多少名同学?(4 分)

**【答案】** $46-40=6$ (名)

答:没有在操场上做游戏的有 6 名同学。




3. 采花。(8 分)



- (1)  和  一共采了多少朵花? (2)  比  少采了多少朵花?

**【答案】** $30+9=39$ (朵)

**【答案】** $9-7=2$ (朵)

答:  和  一共采了 39 朵花。 答:  比  少采了 2 朵花。

## 附加题。(10 分)

下面算式中的△、○、□各表示的是什么数?

$$63-\triangle=60$$

$$\triangle=(3)$$

$$\bigcirc+6=76$$

$$\bigcirc=(70)$$

$$1+3+\square=84$$

$$\square=(80)$$